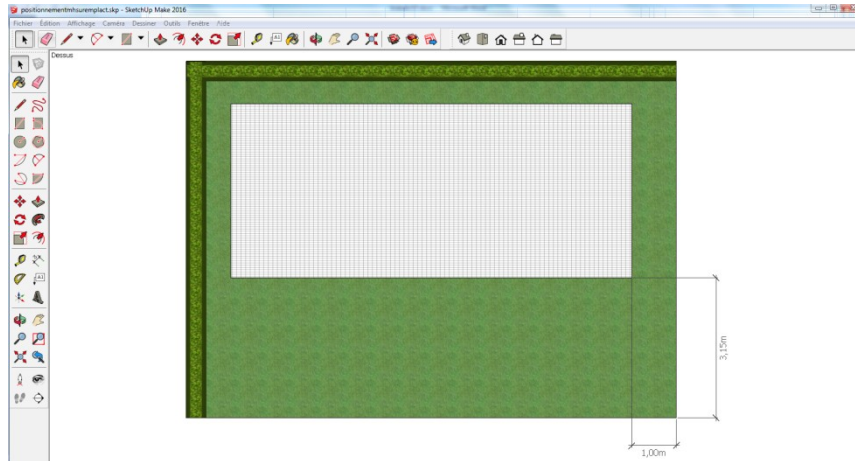
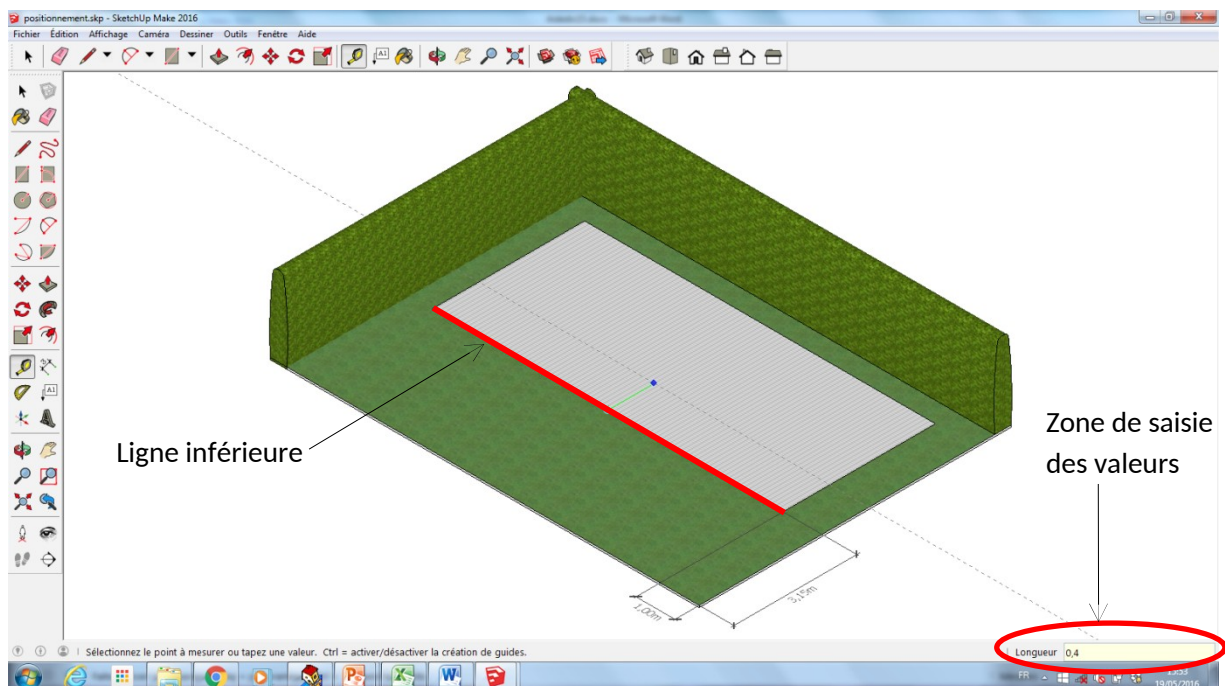


S1.2	Comment optimiser l'implantation de mobil-homes dans un camping ?
Aide OTS2.2	Lire, utiliser et produire, à l'aide d'outils de représentation numérique, des choix de solutions sous forme de dessins ou de schémas.

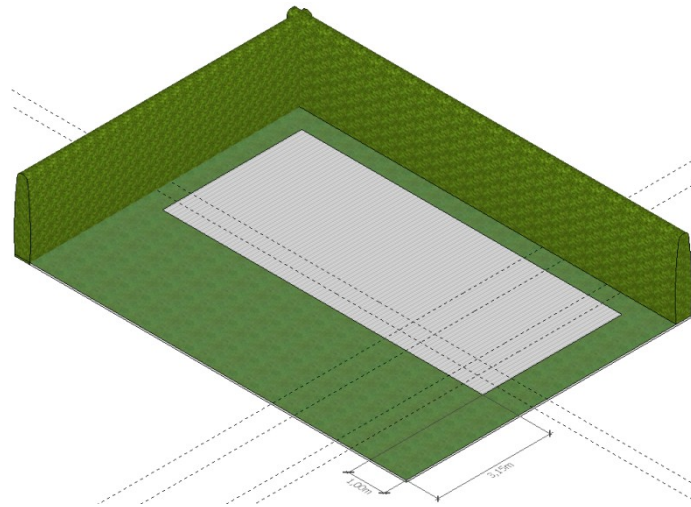
1/ Dans le dossier ressources élèves, technologie, 5<sup>ème</sup>, comment aménager un camping, séance 2, ouvrez le fichier « positionnement2013.skp ».




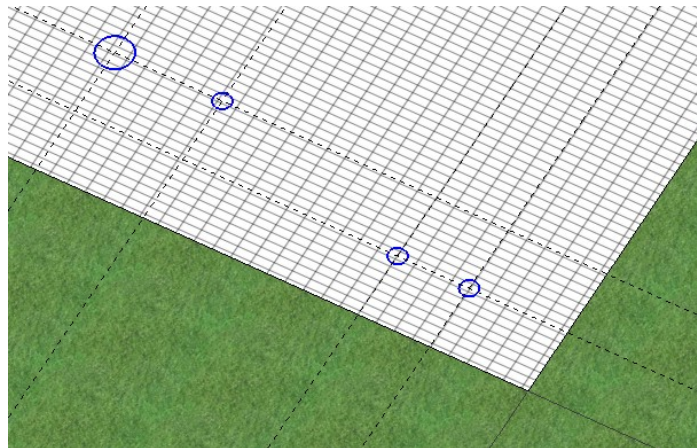
2/ Sélectionnez l'outil « mètre » puis cliquez sur la ligne inférieure de l'emplacement. Décalez le curseur vers le haut puis saisissez 0,4 au clavier, appuyez sur entrée.




3/ Répétez l'opération dans chaque direction et pour chaque valeur :



4/ Tracer des cercles  sur les intersections où doivent se trouver des intersections.



5/ Extrudez  ces cercles sur 40cm puis mettez-les en couleur en sélectionnant « matière » dans le menu fenêtre.

